






Rimsko gradbeništvo

Pobrskej po učbeniku in poišči naslov: Gradbeništvo v času starih Grkov in Rimljanov. Preberi besedilo: Zakaj so Rimljani gradili amfiteatre in reši nalogo.

Nariši tabelo, ki bo imela dva stolpca in pet vrstic.

- V prvem stolpcu poimenuj zgradbo, ki je na fotografiji.
- V drugi stolpec zapiši, čemu je služila stavba na fotografiji.

1. Rimljani so gradili veličastne zgradbe.

Tega stolpca v tvojem zvezku ni. Služi samo za pomoč pri reševanju naloge.	Ime gradbenega dela	Čemu je gradbeno delo služilo?
		
		
		
		
		

2. Kateri gradbeni material so izumili Rimljani. Iz česa so g izdelali?

Če želiš, si lahko ogledaš tudi kratki film o rimskem akvaduktu: <https://www.youtube.com/watch?v=pAUqodcXyWQ>