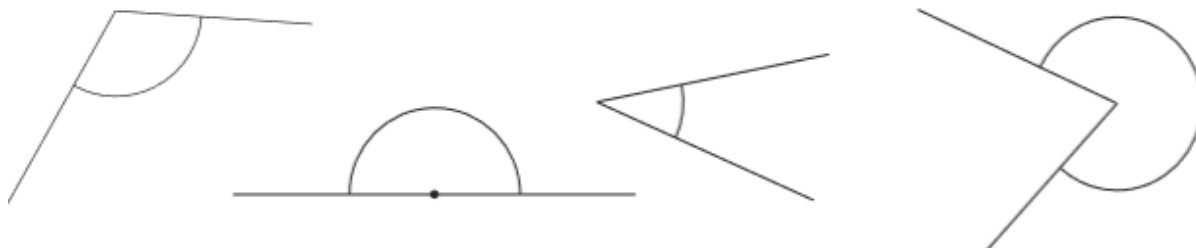


Preverimo, kaj smo se prejšnje dni naučili o kotih.

Pod vsak narisani kot zapiši, katere vrste je. Izbiraš lahko med: ostri kot, topi kot, pravi kot, iztegnjeni kot, udrti kot.



2. naloga

1. Na sliki je več kotov. Izpiši vse ostre, prave, tope in udrte kote.

Ostri koti so: _____

Pravi koti so: _____

Topi koti so: _____

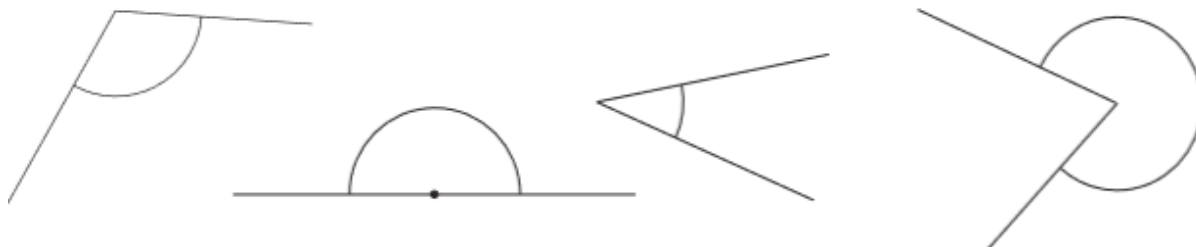
Udrti koti so: _____

Rešitve dobiš na naslednji strani.

REŠITVE

1. naloga

Pod vsak narisani kot zapiši, katere vrste je. Izbiraš lahko med: ostri kot, topi kot, pravi kot, iztegnjeni kot, udrti kot.



R : Topi kot

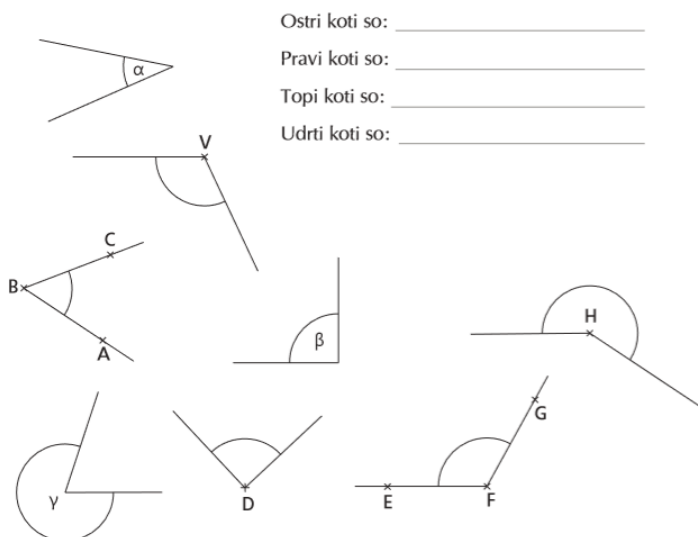
iztegnjeni kot

ostri kot

udrti kot

2. naloga

1. Na sliki je več kotov. Izpiši vse ostre, prave, tope in udrte kote.



Ostri koti so: _____
 Pravi koti so: _____
 Topi koti so: _____
 Udrti koti so: _____

Ostri koti so:	Kot α , kot ABC, kot D
Pravi koti so:	kot β
Topi koti so:	kot V, kot GFE,
Udrti koti so:	kot Y, kot H