

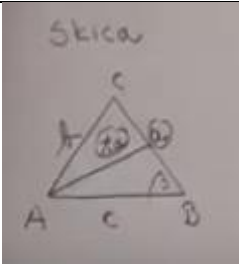
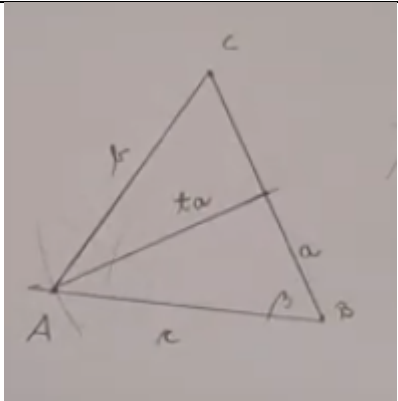
**Načrtovanje trikotnikov ponavljanje in utrjevanje 3. del**

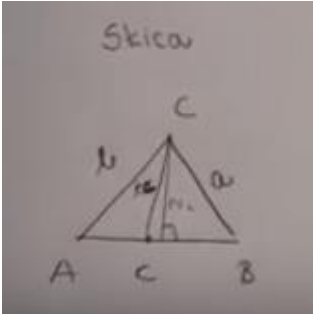
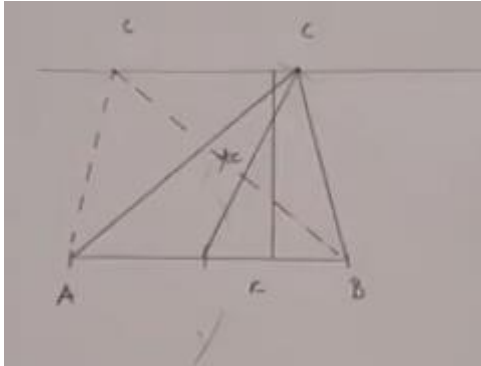
**Načrtovanje trikotnika s težiščnico in višino.**

Najprej ponovi, kaj je težiščnica in kaj je višina. Nato načrtaj spodnja dva trikotnika.

1. naloga	2. naloga
Trikotnik ABC a = 6cm t <sub>a</sub> = 5cm β = 60°	Trikotnik ABC c = 6cm v <sub>c</sub> = 4cm t <sub>c</sub> = 4,5cm

Rešitve

1. Naloga		
Skica	Rešitev	opombe
		Na skici naj bo kot β tudi obkrožen.

2. Naloga		
Skica	Rešitev	opombe
		Na skici naj bodo vsi podatki obkroženi.  Na rešitvi morajo biti označene tudi stranice trikotnika.

Za pomoč pa še :

[https://www.youtube.com/watch?v=nr0vnXAg\\_XI](https://www.youtube.com/watch?v=nr0vnXAg_XI) načrtovanje trikotnika s težiščnico in načrtovanje trikotnika z višino in težiščnico