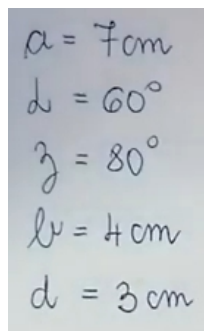


Načrtovanje štirikotnikov

1. Načrtaj splošni štirikotnik s podatki :


$$\begin{aligned}a &= 7 \text{ cm} \\ \alpha &= 60^\circ \\ \gamma &= 80^\circ \\ b &= 4 \text{ cm} \\ d &= 3 \text{ cm}\end{aligned}$$

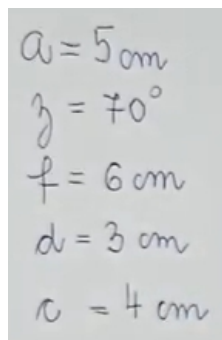
V pomoč ti je lahko razlaga na spodnji povezavi.

<https://www.youtube.com/watch?v=jBOEmFmHQGo>

Končni rešitvi označi še vse stranice, da bo naloga dokončana.

2. Samostojno reši še nalogo 2a na strani 140 v učbeniku.

3. Načrtaj še splošni štirikotnik s podatki:


$$\begin{aligned}a &= 5 \text{ cm} \\ \gamma &= 70^\circ \\ f &= 6 \text{ cm} \\ d &= 3 \text{ cm} \\ c &= 4 \text{ cm}\end{aligned}$$

Pomoč

<https://www.youtube.com/watch?v=klfwzsvov7o>

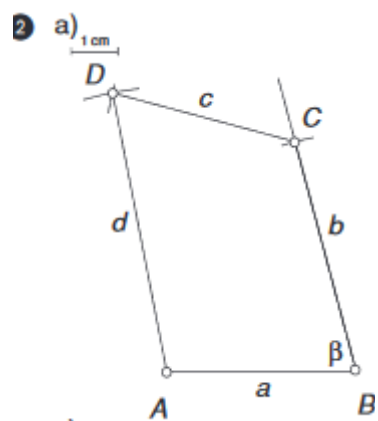
Končni rešitvi označi še vse stranice, da bo naloga dokončana.

4. Samostojno reši še nalogo 2b na strani 140 v učbeniku.

Zmorem tudi to

Naloga 6 na strani 140 v učbeniku. Pošlji mi rešitev, če si načrtal ta štirikotnik.

Rešitve



b)

