
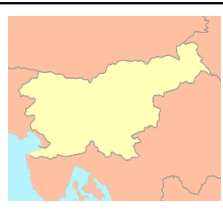

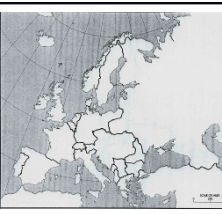



Pozdravljene učenke in učenci 9.b razreda.

Za danes sem pripravila najprej ponovitev nekaterih tem. Pri ponovitvi si pomagaj z zvezkom in učbenikom. Slovenci so v 20. stoletju živeli v različnih državah. V tabelo pod zemljevidom bi vpisal – odgovarjaš samo ustno.

- Ime države.** Države niso razporejene kronološko (po časovnem vrstnem redu).
- Do kdaj so Slovenci živeli v tej državi (leto).** Če država še obstaja, povej leto nastanka.
- S števkami od 1 do 5 jih razvrsti kronološko** (od najstarejše do sedanje države).

					
a					
b					
c					

- Leto 1917 je prineslo živahne razprave o prihodnjem položaju Slovencev. Nastali sta dve deklaraciji. Preberi obe deklaraciji in odgovori na vprašanja.

Vir: 1/ »Podpisani poslanci, ki so združeni v Jugoslovanskem klubu, izjavljajo, da zahtevajo na temelju narodnega načela ... naj se vsa ozemlja monarhije, v katerih prebivajo Slovenci, Hrvati in Srbi združijo pod žezlom habsburško-lotarinške dinastije v samostojno državno telo...«

- O kateri deklaraciji pripoveduje prvi vir?
- O preureditvi katere države pripoveduje deklaracija?
- Kako bi bila ta država preurejena?

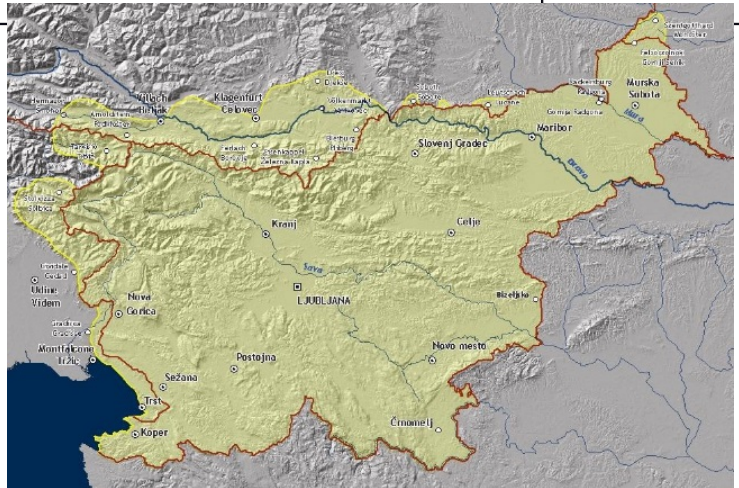
Vir 2/ »...Država Srbov, Hrvatov in Slovencev, ki so znani tudi pod imenom Južni Slovani, bo svobodno, neodvisno kraljestvo z enotnim teritorijem in enotnim državljanstvom. To bo ustavna, demokratična in parlamentarna monarhija pod vodstvom dinastije Karađorđević...«

- O kateri deklaraciji pripoveduje drugi vir?
- Razpad katere države predvideva ta deklaracija?
- Katera deklaracija je bila v svojih zahtevah bolj radikalna (je zahtevala večje spremembe)? Pojasni, zakaj.

- Leta 1918 so Slovenci živeli v treh državah. Poimenuj državo, ki je opisana v prvem stolpcu.

Razpadla je ob koncu prve svetovne vojne. Njeni voditelji niso bili pripravljene uresničiti želja številnih narodov po avtonomiji.	
Tedaj so Slovenci prvič dokazali svojo državotvorno sposobnost. Prvič v zgodovini so imeli svojo narodno vlado v Ljubljani. Država je obstajala 33 dni. Njeni voditelji so se odločili za združitev s Kraljevino Srbijo tudi zato, ker so se bali razkosanja slovenskega narodnega ozemlja.	

Nastala je z združitvijo Države Slovencev Hrvatov in Srbov in Kraljevine Srbije.



4. Po prvi svetovni vojni so določali slovenske meje.
1. Kdo je leta 1918 Nemcem preprečil zavzetje slovenskega dela Štajerske? (ime, priimek).
2. Kateri del slovenskega narodnega ozemlja je po prvi svetovni vojni pripadel Madžarski?
3. Kateri del slovenskega narodnega ozemlja smo dobili od Madžarske?
4. Kateri del slovenskega narodnega ozemlja smo izgubili po 1. sv. vojni zaradi neuspelega plebiscita?
5. Katero ozemlje smo izgubili z rapalsko pogodbo? _____
6. Označi na zemljevidu s številkami od 1-5 dele slovenskega narodnega ozemlja o katerih govorijo zgornja vprašanja. Številke na zemljevidu se morajo ujemati s številkami pred vprašanji.

Danes boš raziskoval, kakšen je bil položaj Slovencev v Italiji. O tem smo letos že veliko govorili, ko smo se pripravljali na proslavo ob prazniku vrnitve Primorske k matični domovini. Zapiši v zvezek naslov, vprašanja in odgovore. Tokrat pričakujem, da mi spodnji del zadolžitve fotografiraš in mi jih pošlješ v pregled.

SLOVENCİ V ITALIJI

Preberi besedilo v učbeniku str. 99-100

1. Zakaj se je položaj Slovencev v Italiji po letu 1922 še poslabšal?
2. Kako je potekalo poitalijančevanje Slovencev?
3. Kako so italijanske oblasti ravnale s slovenskimi učitelji?
4. Kakšno vlogo so na Primorskem odigrali slovenski duhovniki?
5. Začelo se je množično izseljevanje Slovencev. Kam se jih je največ izselilo?
6. TIGR
 - a. Kaj je bil TIGR?
 - b. Kaj pomeni ime TIGR?
 - c. Kakšen je bil cilj tigrovcev?
 - d. *Samo za razmislek? Mogoče veš, kje v Ajdovščini stoji spomenik tigrovcem?*
7. Kakšen je bil cilj dveh tržaških procesov?

Za razmislek

Letos potekata dve stoletnici dogodkov povezanih s Slovenci v Italiji. Katerih?